


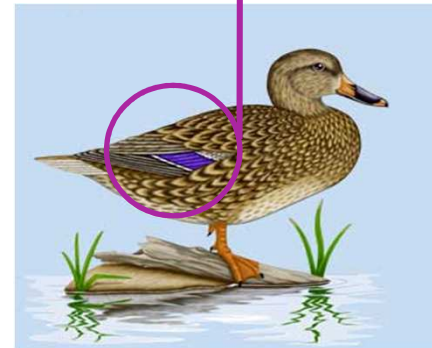
Con ayuda de las fichas, observa las **anátidas de la charca** e identifica sus rasgos más característicos, como por ejemplo:



ÁNADE RABUDO
(*Anas acuta*)



PATO CUCHARA
(*Anas clypeata*)



ÁNADE REAL / AZULÓN
(*Anas platyrhynchos*)



PORRÓN MOÑUDO
(*Aythya fuligula*)



Este cuaderno es de:

Curso:

Fecha:

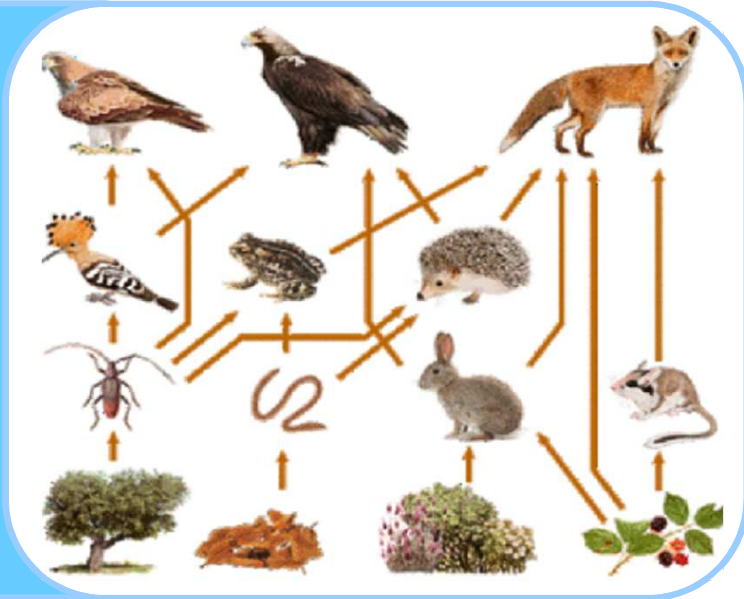
<https://diario.madrid.es/cieacasadecampo>



LOS ECOSISTEMAS

Durante esta actividad vamos a ver **diferentes ecosistemas** presentes en la Casa de Campo. ¿Sabes qué es un **ecosistema**?

FLUJO
DE
ENERGÍA
DE UN
ECOSISTEMA



Este dibujo representa la **cadena trófica del encinar**.
¿Cuántos **niveles de organismos** están representados?

Además de éstos, ¿conoces alguno más?

LAS ANÁTIDAS



¿Sabrías explicar qué es el **dimorfismo sexual**?



En la charca del observatorio, vive un **ave que no pertenece a la familia de las anátidas**.

Con la ayuda de la ficha y observando, ¿sabes decir cuál es?

¿Sabrías decir qué **tipo de pata** tiene y para qué sirve esta **adaptación**?



¿CÓMO AYUDARLAS

Para ayudar en la **conservación de la fauna**.
¿Qué debemos hacer?



- Educación ambiental
- Repoblaciones forestales



- _____
- _____
- _____
- _____


En el Encinar, existen distintos **recursos** que son **necesarios para la vida de las aves** (agua, refugios naturales, alimento,...).

¿Qué **elementos artificiales** podemos instalar nosotros para ayudarlas?



LAS AVES FORESTALES

En el **Encinar de San Pedro** viven muchas **aves típicas de ecosistemas forestales**.
Haz una lista con las aves que veamos o escuchemos durante el recorrido.



LAS AVES RAPACES

Las aves rapaces son aquellas que _____

Para conseguirlo, poseen distintas adaptaciones, ¿sabes cuáles son?



DIURNAS

MILANO NEGRO



NOCTURNAS



AUTILLO COMÚN

ADAPTACIONES DE LAS AVES

Las aves tienen **distintas adaptaciones** en su cuerpo para su forma de vida y alimentación.

Relaciona cada tipo de pata con las letras de los dibujos



Trepadora Rapaz Limícola

Arborícola Nadadora

¿Sabes qué **tipo de pico** tiene cada una de estas aves?



1 _____

2 _____

3 _____

4 _____

5 _____